

## الفصل الثاني:

# تعضي وفيزيولوجية الجهاز التناسلي عند المرأة

### مقدمة:

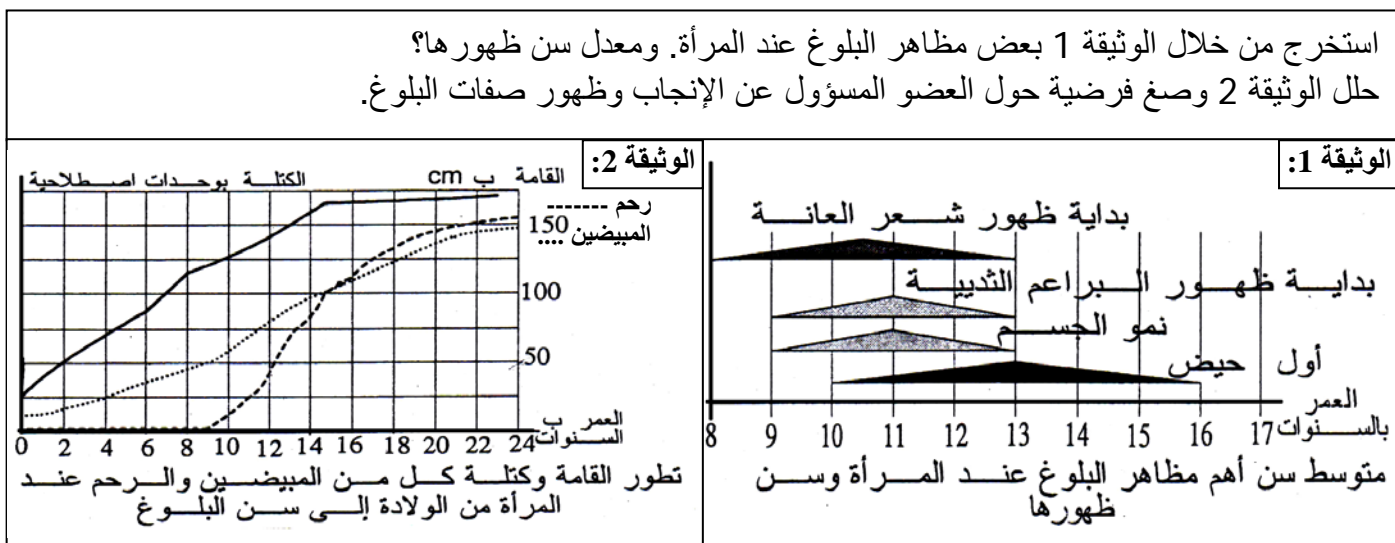
يتميز الجهاز التناسلي عند المرأة بنشاط دوري. وينطلق ابتداء من سن البلوغ ويستمر إلى سن الضهي Ménopause، ومن نتائج نشاط الجهاز التناسلي الأنثوي:

- تشكل الأمشاج الأنثوية ( البويضات ).
- ظهور الصفات الجنسية الثانوية.

كيف تتشكل الأمشاج؟ ولماذا نلاحظ نشاطا دوريا؟ وما علاقة الصفات الجنسية الثانوية بالجهاز التناسلي الأنثوي؟

### 1 - دور المبيض في إنتاج الأمشاج الأنثوية وإفراز الهرمونات:

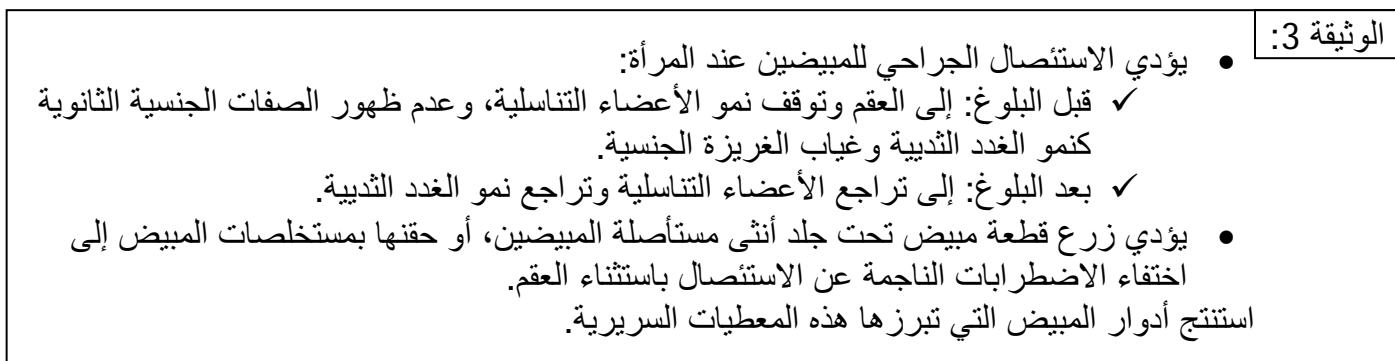
أ - بعض مظاهر البلوغ عند المرأة: أنظر الوثيقة 1 والوثيقة 2



يشهد جسم الفتاة عند بداية البلوغ مجموعة من التغيرات المظهرية والفيزيولوجية والسلوكية، منها نمو ظهور شعر العانة ونمو الثديين واتساع عظم الحوض ونمو طبقة دهنية تحت الجلد وظهور أول طمث عند معدل عمر يقدر ب 13 سنة. تزداد كتلة المبيضين والرحم والرحم بعد البلوغ الشيء الذي يجعلنا نفترض أن لهذه الأعضاء دور في الإنجاب وظهور صفات البلوغ.

### ب - دور المبيض في الوظيفة الجنسية عند المرأة:

a - ملاحظات سريرية: أنظر الوثيقة 3



### b - تحليل:

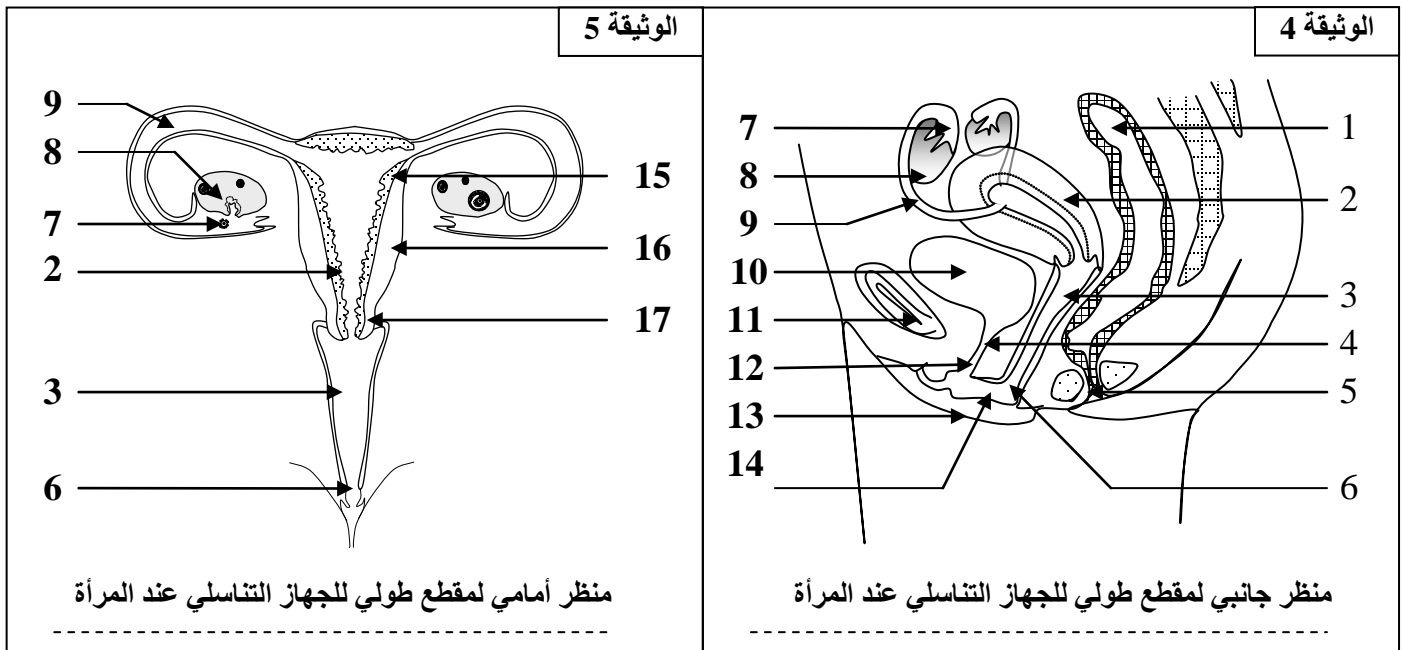
يتبين من هذه المعطيات أن المبيض مسؤول عن نمو الصفات الجنسية الأولية، وظهور وبقاء الصفات الجنسية الثانوية، وإنتاج الأمشاج الأنثوية. كما أن المبيض يؤثر في هذه الصفات بواسطة هرمونات.

## C – استنتاج:

- للمبيض دور أساسي في عملية التوالد، إذ يظهر وظيفتين أساسيتين:
- وظيفة خارجية تتمثل في إنتاج الأمشاج الأنثوية ( الانطاف ).
  - وظيفة داخلية تتمثل في إفراز هرمونات جنسية هي الأستروجينات والجسرون، تراقب نمو الصفات الجنسية الأولية، وظهور وبقاء الصفات الجنسية الثانوية.

## II – تعضي الجهاز التناسلي عند المرأة والبنيات المسؤولة عن إنتاج الأمشاج وإفراز الهرمونات:

### أ – تعضي الجهاز التناسلي عند المرأة: أنظر الوثيقة 4 والوثيقة 5



1 = مستقيم	2 = رحم	3 = مهبل	4 = الحيل	5 = شرح
6 = فتحة تناسلية	7 = صيوان	8 = مبيض	9 = خرطوم	10 = مئانة
11 = عظم العانة	12 = فتحة بولية	13 = شفة كبيرة	14 = شفة صغيرة	15 = مخاطة الرحم
16 = عضلة الرحم	17 = عنق الرحم			

يتضح من خلال هذه الوثائق أن الجهاز التناسلي الأنثوي يتكون من:

- مناسل أنثوية: هي المبيضين.
- المسالك التناسلية: تتكون من قناة المبيض أو الخرطوم الذي ينتهي بصيوان يغطي جزئياً المبيض.
- الغدد الملحقة: تتكون من غدد Bartholin وهي غدد صغيرة في مؤخرة الفرج تفرز سائلاً لزجاً يسهل عملية الإيلاج.
- عضو تناسلي خارجي: يتكون من شفتين صغيرتين وشفتين كبيرتين ( انثناءات جلدية )، والبطر ( عضو صغير قابل للاهابة والانتصاب ).

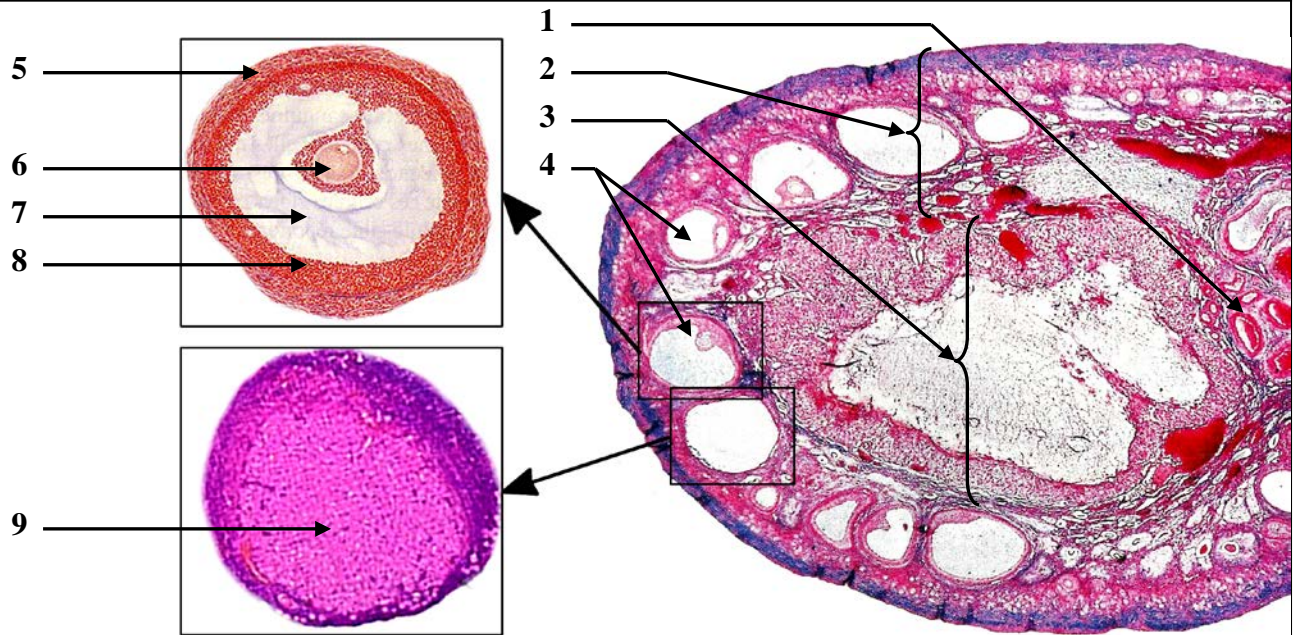
## ب – البنيات المسؤولة عن إنتاج الأمشاج وإفراز الهرمونات الجنسية الأنثوية:

### a – ملاحظة مقطع للمبيض: أنظر الوثيقة 6

تظهر الملاحظة أن المبيض يتشكل من منطقتين: منطقة لبية غنية بالشعيرات الدموية، ومنطقة قشرية تضم بنيات على شكل كتل خلوية ذات أشكال وأحجام مختلفة هي الجريبات. يظهر الجريب الجوفي خلية بيضية وسط الجوف الجريبي حيث لا يربطها بمحيط الجريب سوى وصلات رقيقة من الخلايا الجريبية.

يتبين من هذه الملاحظات أن المشيج الأنثوي يتشكل على مستوى المبيض داخل الجريبات.

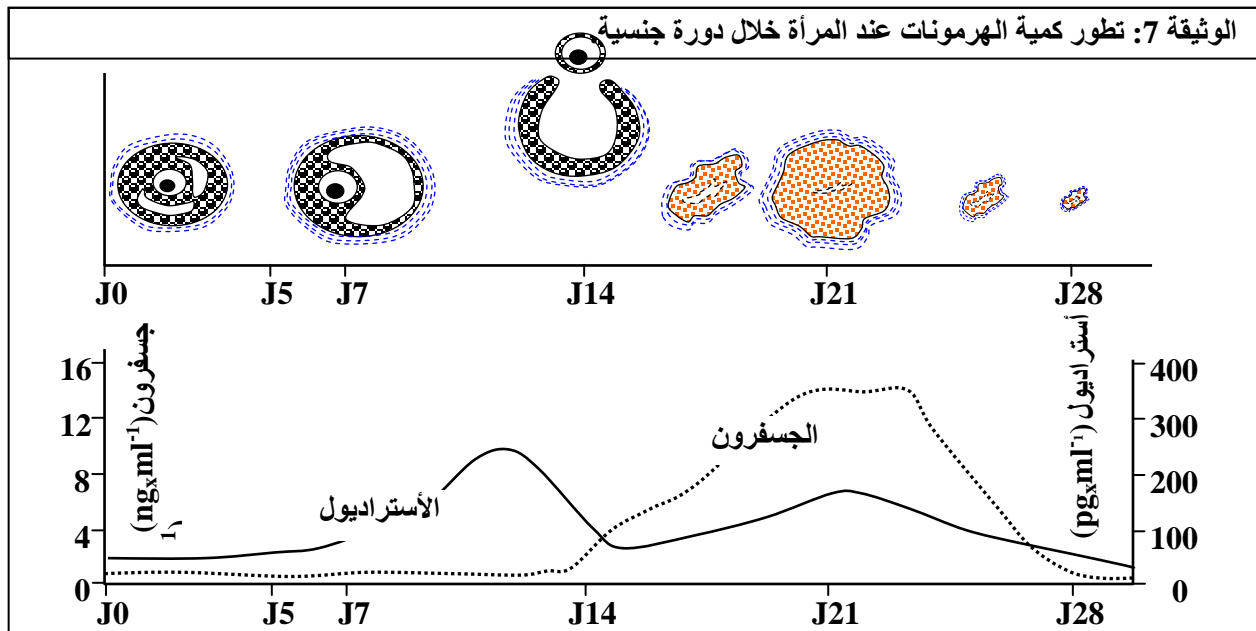
الوثيقة 6: الشكل أ = مقطع مبيض، الشكل ب = جريب جوفي، الشكل ج = جسم أصفر



انطلاقاً من معطيات هذه الوثيقة أصف البنية المسؤولة عن إنتاج المشيج الأنثوي، وأتعرف بنية ودور الجسم الأصفر.

1 = شعيرات دموية	2 = منطقة قشرية	3 = منطقة لبية	4 = جريبات	5 = الطبقتان	6 = خلية بيضية	7 = تجويف	8 = منطقة حبيبية	9 = خلايا جسفرنية
------------------	-----------------	----------------	------------	--------------	----------------	-----------	------------------	-------------------

### b - الهرمونات الجنسية الأنثوية: أنظر الوثيقة 7



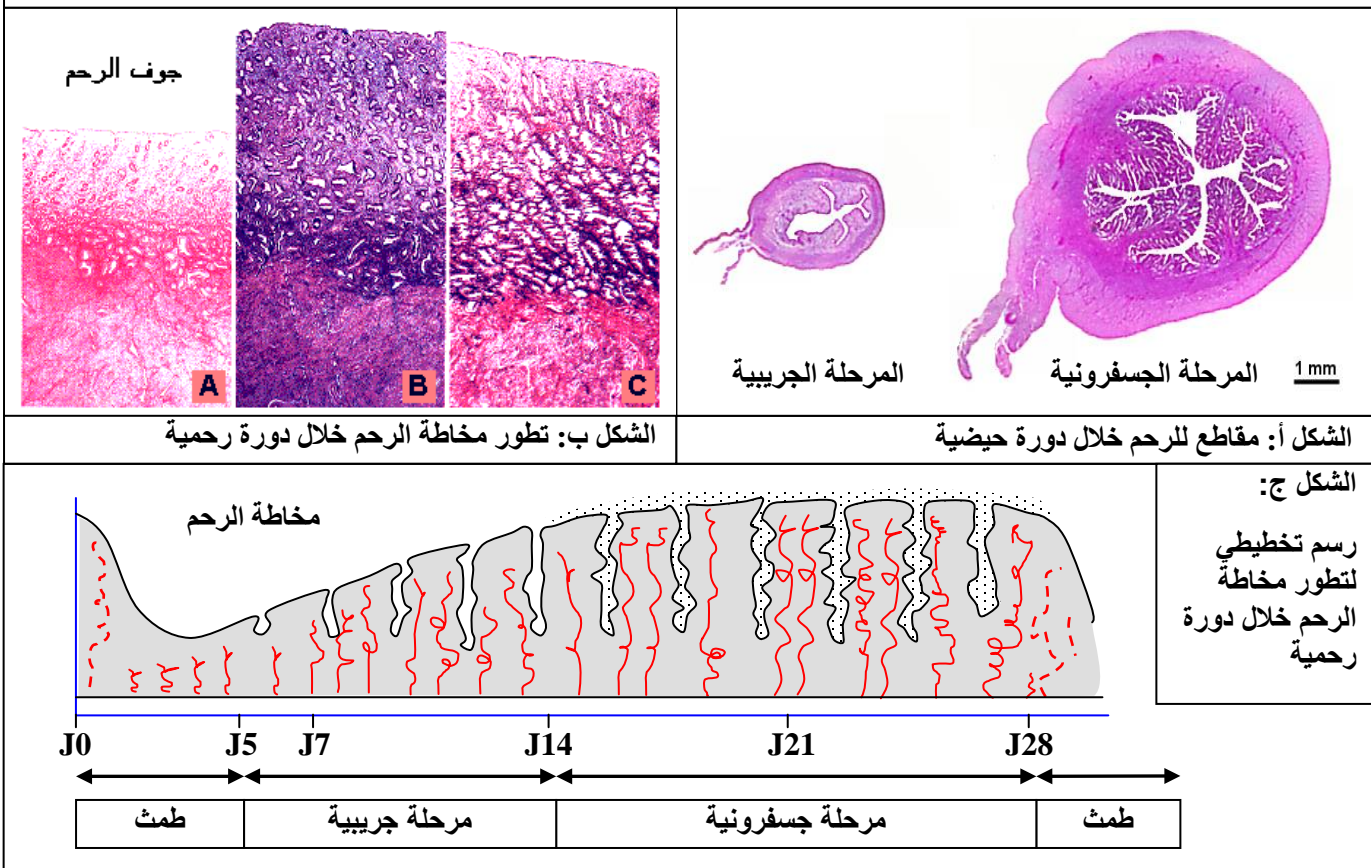
يتبين من تحليل الوثيقة 7 أن المبيض يفرز هرمونين هما الأسترايديول والجسفرين. بحيث ترتفع نسبة الأسترايديول خلال النصف الأول من الدورة الجنسية أي خلال تكون الجريبات. بينما ترتفع نسبة الجسفرين خلال النصف الثاني من الدورة الجنسية أي خلال تشكل الجسم الأصفر. وهكذا نستنتج أن الجريبات تفرز الأسترايديول والجسم الأصفر يفرز الجسفرين.

### III - الدورة الرحمية والدورة المبيضية:

يتميز نشاط الجهاز التناسلي عند المرأة بتعاقب الطمث، الشيء الذي يدل على وجود نشاط دوري لهذا الجهاز.

### أ - الدورة الرحمية: أنظر الوثيقة 8

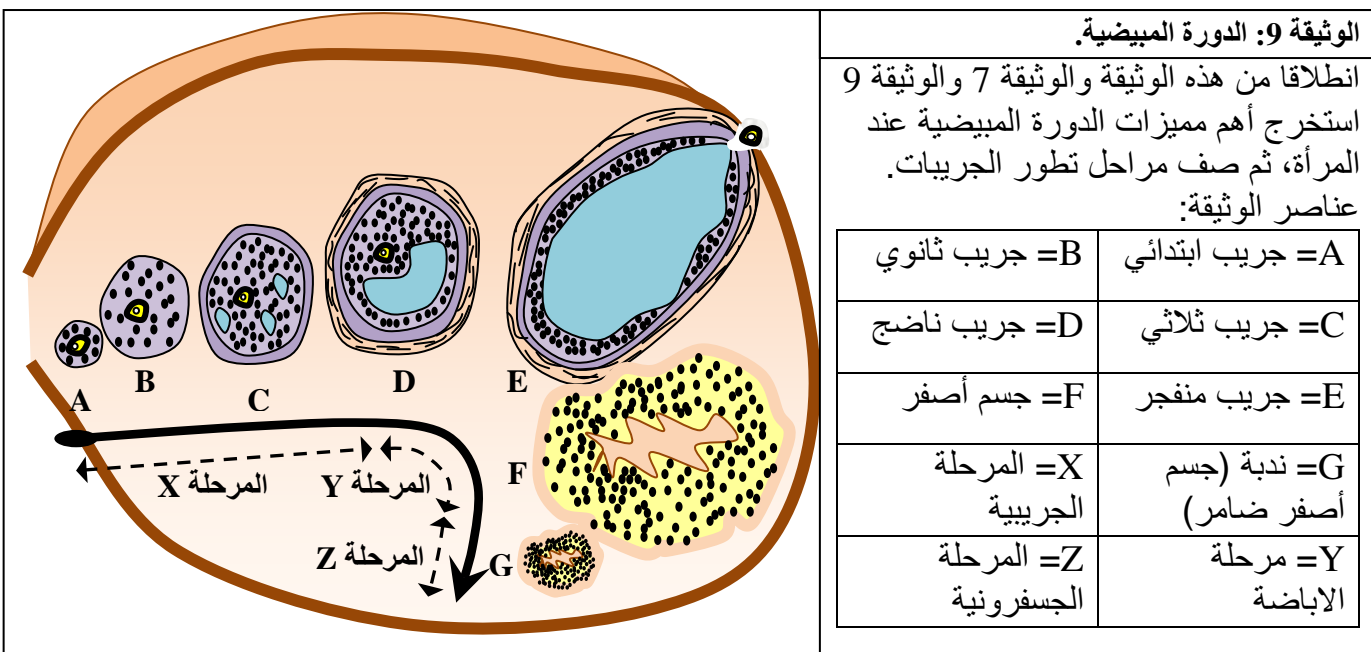
الوثيقة 8: انطلاقاً من هذه الوثيقة أبرز أهم مظاهر تطور مخاطية الرحم خلال دورة حيضية.



تخضع مخاطة الرحم لتغيرات دورية، حيث تدوم كل دورة رحمية في المعدل 28 يوماً. خلال كل دورة رحمية:

- في بداية الدورة وبعد الحيض تبدأ مخاطة الرحم في النمو (من 1mm في بداية الدورة إلى 8mm في نهايتها): A:
- تظهر ثم تتكاثر الغدد الأنبوبية، حيث تكون مستقيمة في النصف الأول من الدورة، وتصبح متعرجة في النصف الثاني. A و b.
- تنمو الشعيرات الدموية فتصبح ملولبة.
- في نهاية الدورة تنفجر الشعيرات الدموية ويتهدم جزء من مخاطة الرحم، فيتم طرح بقايا المخاطة مع الدم الذي لا يتكاد بفعل عامل يمنع التخثر يفرزه الرحم، فتكون النتيجة نزول دم الحيض.

### ب – الدورة المبيضية: أنظر الوثيقة 9



## a – الدورة المبيضية:

تنقسم كل دورة مبيضية إلى مرحلتين تفصلهما ظاهرة الإباضة:

- المرحلة الجريبية: تتميز هذه المرحلة بنمو الجريبات، حيث ينضج عادة جريب واحد أما البقية فيصحبها الانحلال، و تدوم هذه الفترة 14 يوم تقريبا.
- مرحلة الإباضة: عندما ينضج الجريب يضغط على جدار المبيض فيرققه ويصبح نحيفا وبذلك ينفجر الجريب وجدار المبيض، فتطرح الخلية البيضية مع بعض الخلايا الجريبية. تغادر الخلية البيضية المبيض تاركة ندبة على جداره، فيتلقفها الصيوان. تحدث هذه الظاهرة في اليوم 14 من الدورة ( اليوم 1 من الدورة هو اليوم الأول من الحيض ).
- المرحلة الجسفرونية: بعد طرد الخلية البيضية يتحول ما تبقى من الجريب إلى جسم أصفر. وفي حالة عدم حدوث الإخصاب، ينحل الجسم الأصفر ويتحول إلى جسم أبيض سرعان ما ينحل بدوره معلنا نهاية المرحلة الجسفرونية.

## b – تطور الجريبات:

اعتمادا على مظهر الجريبات يمكن التمييز بين:

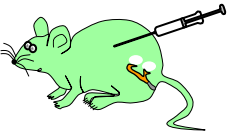
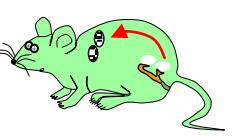



- جريبات أصلية: عديدة وتكون على مستوى قشرة المبيض. ويتكون كل جريب أصلي من خلية بيضية تحيط بها بعض الخلايا الجريبية.
- جريبات ابتدائية: تنتج عن الجريبات الأصلية وذلك بنمو الخلية البيضية وتكاثر الخلايا الجريبية التي تكون منطقة منظمة حول الخلية البيضية.
- جريبات ثانوية: تنمو الخلية البيضية وتتكاثر الخلايا الجريبية التي تكون منطقة حبيبية، فتظهر طبقتين خلويتين حول الجريب.
- جريبات ثلاثية = ج جوفية: تتكاثر خلايا الطبقة الحبيبية فتظهر بها عدة تجويفات يملؤها سائل جريبي تفرزه الخلايا الجريبية.
- جريبات ناضجة = ج De Graaf: تشكل المرحلة النهائية لتطور الجريبات. حيث يمتلئ الجوف الجريبي بسائل جريبي.

## IV – العلاقة الوظيفية بين المبيض والرحم:

يتميز كل من المبيض والرحم بنشاط دوري متزامن مما يوحي بوجود علاقة بين نشاط هذين العضوين. فما طبيعة العلاقة بين المبيض والرحم؟

### أ – الكشف عن العلاقة بين المبيض والرحم: أنظر الوثيقة 10





الوثيقة 10: للكشف عن العلاقة الوظيفية بين المبيضين والرحم أنجزت تجارب عند الفئران. حلل نتائج هذه التجارب واستنتج العلاقة بين المبيض والرحم.

				
5- حقن مستخلصات المبيضين بعد استئصالهما	4- زرع قطعة مبيض تحت الجلد بعد استئصال المبيضين	3- استئصال المبيضين	2- استئصال الرحم	1- فئران إناث شاهدة
نمو مخاظة الرحم بشكل عادي	نمو دوري لمخاظة الرحم	توقف دورة الرحم	دورة مبيضية عادية	نشاط جنسي دوري عادي

من خلال هذه التجارب يتبين أن الرحم لا يؤثر على المبيض بينما المبيض يؤثر على الرحم بواسطة الهرمونات الجنسية.

ب - تأثير الهرمونات المبيضية على الرحم: أنظر الوثيقة 11

الوثيقة 11: تم إنجاز بعض التجارب على أربعة مجموعات من الأرناب غير بالغة ويقدم الجدول التالي هذه التجارب و نتائجها. حلل هذه النتائج التجريبية ثم استنتج تأثير الهرمونات المبيضية على الرحم.

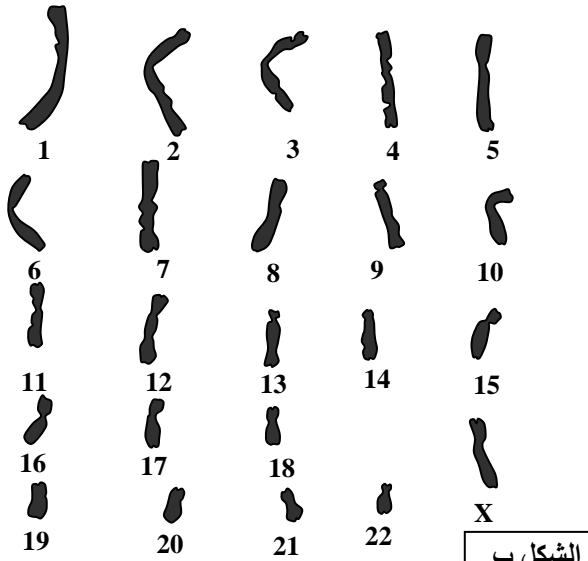
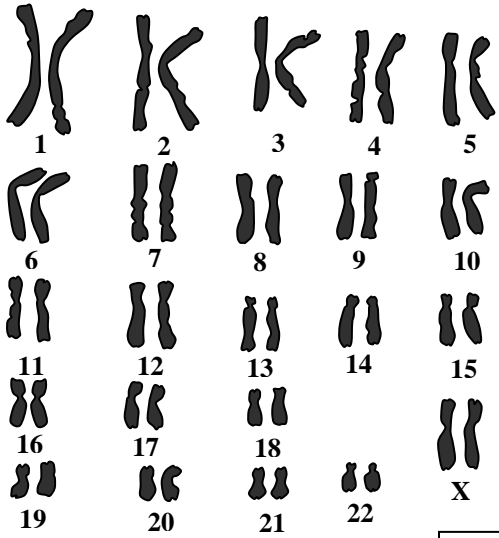
المجموعة 4	المجموعة 3	المجموعة 2	المجموعة 1	
+	+	-	-	حقن الأسترايول في الزمن $t_1$
+	-	+	-	حقن الجسفرين في الزمن $t_2$
				مقطع عرضي للرحم في نهاية التجربة

- الأستروجينات: تضخم مخاطة الرحم وتحفز تكاثر الغدد الأنبوبية ونمو الشعيرات الدموية.
- الجسفرين: يؤثر في مخاطة سبق أن خضعت لتأثير الأستروجينات، فيعمل على استقرار تضخم مخاطة الرحم وتلويب الشعيرات الدموية.

V - مراحل تشكل الأمشاج الأنثوية:

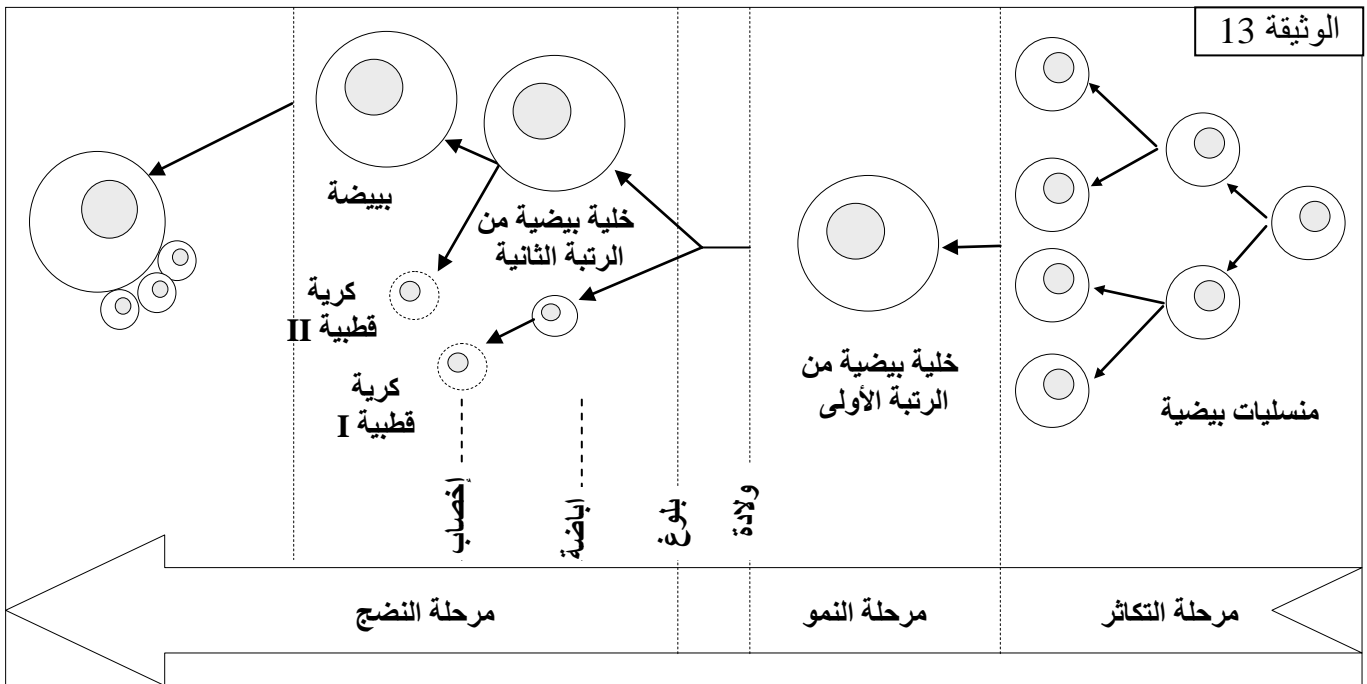
أ - مقارنة الخريطة الصبغية للمنسلية البيضية والخلية البيضية: أنظر الوثيقة 12

الوثيقة 12: قارن الخريطة الصبغية لكل من المنسلية البيضية ( الشكل أ ) والخلية البيضية ( الشكل ب ). ماذا تستنتج من هذه المقارنة؟

	
الشكل ب	الشكل أ

تتميز المنسلية البيضية بعدد زوجي من الصبغيات، بحيث أن لكل صبغي، صبغي آخر يماثله في الشكل والقد. هي إذن خلية ثنائية الصيغة الصبغية ( $2n$ ). عند الإنسان  $2n = 46$ . ( $2n = 22AA + XX$ ).  
تتميز الخلية البيضية بعدد فردي من الصبغيات، بحيث أن كل صبغي له شكل وقد مختلف عن باقي الصبغيات. هي إذن خلايا أحادية الصيغة الصبغية ( $n$ ). عند الإنسان  $n = 23$ . ( $n = 22A + X$ ).  
من خلال مقارنة الصيغة الصبغية للمنسلية البيضية والخلية البيضية يتبين أن هناك اختزال لعدد الصبغيات خلال تشكل الأمشاج الأنثوية.

## ب - مراحل تشكل الأمشاج الأنثوية: أنظر الوثيقة 13



## a - مرحلة التكاثر:

تتم خلال ستة أشهر الأولى من الحمل، وتكون ذخيرة الأنثى من المنسلات البيضية، إلا أن عددا كبيرا من هذه المنسلات يصاب بالانحلال.

## b - مرحلة النمو:

تنمو المنسلات البيضية ويزداد حجمها فتتحول إلى خلايا بيضية من الرتبة الأولى. تدخل هذه الخلايا في الانقسام الاختزالي إلا أنه يتوقف في المرحلة التمهيديّة الأولى.

## c - مرحلة النضج:

بعد البلوغ وخلال كل دورة جنسية تواصل بعض الجريبات نموها ليصل جريب واحد إلى مرحلة النضج. حيث تستأنف الخلية البيضية انقسامها الاختزالي، فتقسم الانقسام الأول لتعطي خليتين الأولى كبيرة هي الخلية البيضية من الرتبة الثانية والثانية صغيرة تسمى الكروية القطبية الأولى. لكن الانقسام الاختزالي يتوقف ليستأنف مباشرة بعد الإخصاب. فنحصل على خليتين: خلية كبيرة هي الخلية البيضية التي تعطي بويضة. والثانية صغيرة تسمى الكروية القطبية الثانية.

## VI - دور مركب الوطاء-النخامية في تنظيم نشاط المبيضين:

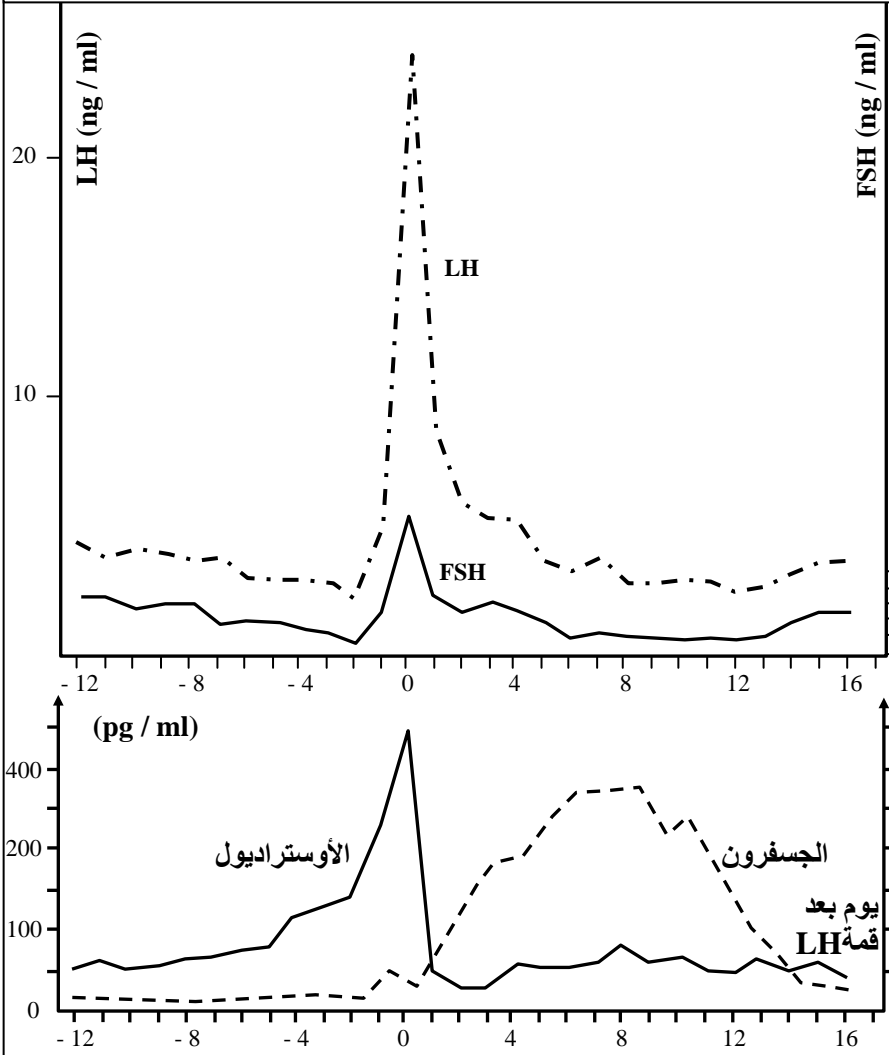
## أ - الكشف عن علاقة النخامية بنشاط المبيضين:

## a - ملاحظات وتجارب: أنظر الوثيقة 14

## b - تحليل واستنتاج:

تفرز النخامية الأمامية هرمونات منشطة للمناسل: هرمون منشط للجريبات FSH وهرمون منشط للجسم الأصفر LH. تتغير نسب هذه الهرمونات بشكل دوري خلال الدورة الجنسية: خلال المرحلة الجريبية يتزامن ارتفاع FSH مع الارتفاع التدريجي للأستروجينات التي تفرز مع تطور الجريبات وهذا يعني أن FSH ينشط نمو ونضج الجريبات. قبيل الإباضة نلاحظ ارتفاع كبير في إفراز FSH وخصوصا LH نتحدث عن ذروة LH وهذه الذروة هي المسؤولة عن حدوث الإباضة و تحول الجريب الناضج إلى جسم أصفر. خلال المرحلة الجسفرونية ينخفض إفراز FSH أي توقف نمو ونضج الجريبات، ويفرز LH بكمية متوسطة تضمن تطور والحفاظ على الجسم الأصفر وبالتالي إفراز الجسفرين والأستروجينات. في نهاية المرحلة الجسفرونية نلاحظ انخفاض في إفراز LH ينتج عنه تراجع الجسم الأصفر وبالتالي انخفاض إفراز الجسفرين والأستروجينات.

الوثيقة 14: علاقة النخامية بنشاط المبيضين. / تطور الهرمونات المبيضية والنخامية عند المرأة.

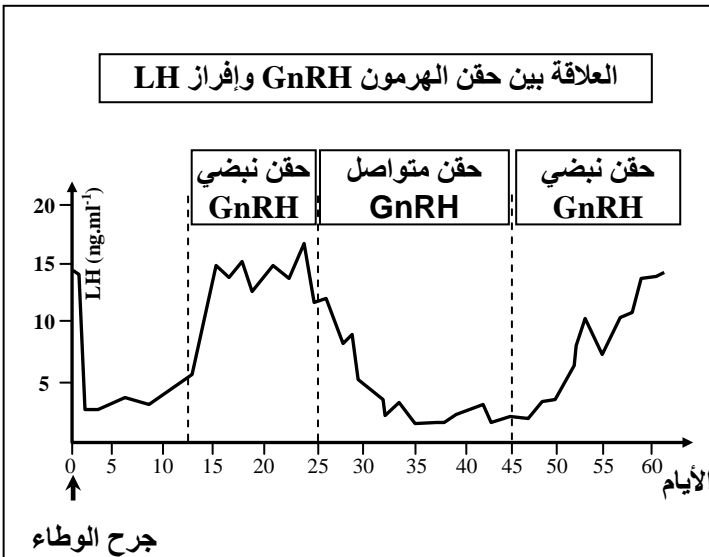


- تؤدي الإصابة بورم في الغدة النخامية عند المرأة إلى حدوث اضطرابا، من بينها توقف الطمث وغياب الإباضة.
- يؤدي استئصال الغدة النخامية عند إناث الشامبانزي إلى اختفاء الدورتين المبيضية والرحمية. ويمكن تصحيح هذه الاضطرابات بحقنها بشكل متكرر بمستخلصات الغدة النخامية.
- عند زرع النخامية الأمامية في وسط مقبت يفتني هذا الوسط بهرمونين يسميان منشطتي المناسل FSH و LH.
- في سن الضهي، يرافق انخفاض نسب الهرمونات المبيضية الناتج عن توقف نشاط المبيضين (نفاد الجريبات ) ارتفاع ملحوظ في نسب FSH و LH في الدم. حلل هذه المعطيات واستنتج العضو المتحكم في دورة المبيض وكيفية تأثيره.

### ب – الكشف عن علاقة الوطاء بنشاط النخامية:

a – ملاحظات وتجارب: أنظر الوثيقة 15

الوثيقة 15: علاقة الوطاء بنشاط النخامية



نتائج	تجارب على إناث ثديية عادية
زيادة إنتاج LH و FSH من طرف النخامية الأمامية، وإباضة مفاجئة.	أهاجة الخلايا العصبية الإفرازية للوطاء.
توقف نشاط المبيضين	تخريب الخلايا العصبية الإفرازية للوطاء.
توقف إنتاج LH و FSH	قطع العروق الدموية بين الوطاء والنخامية

حلل هذه المعطيات واستنتج علاقة الوطاء بالغدة النخامية.

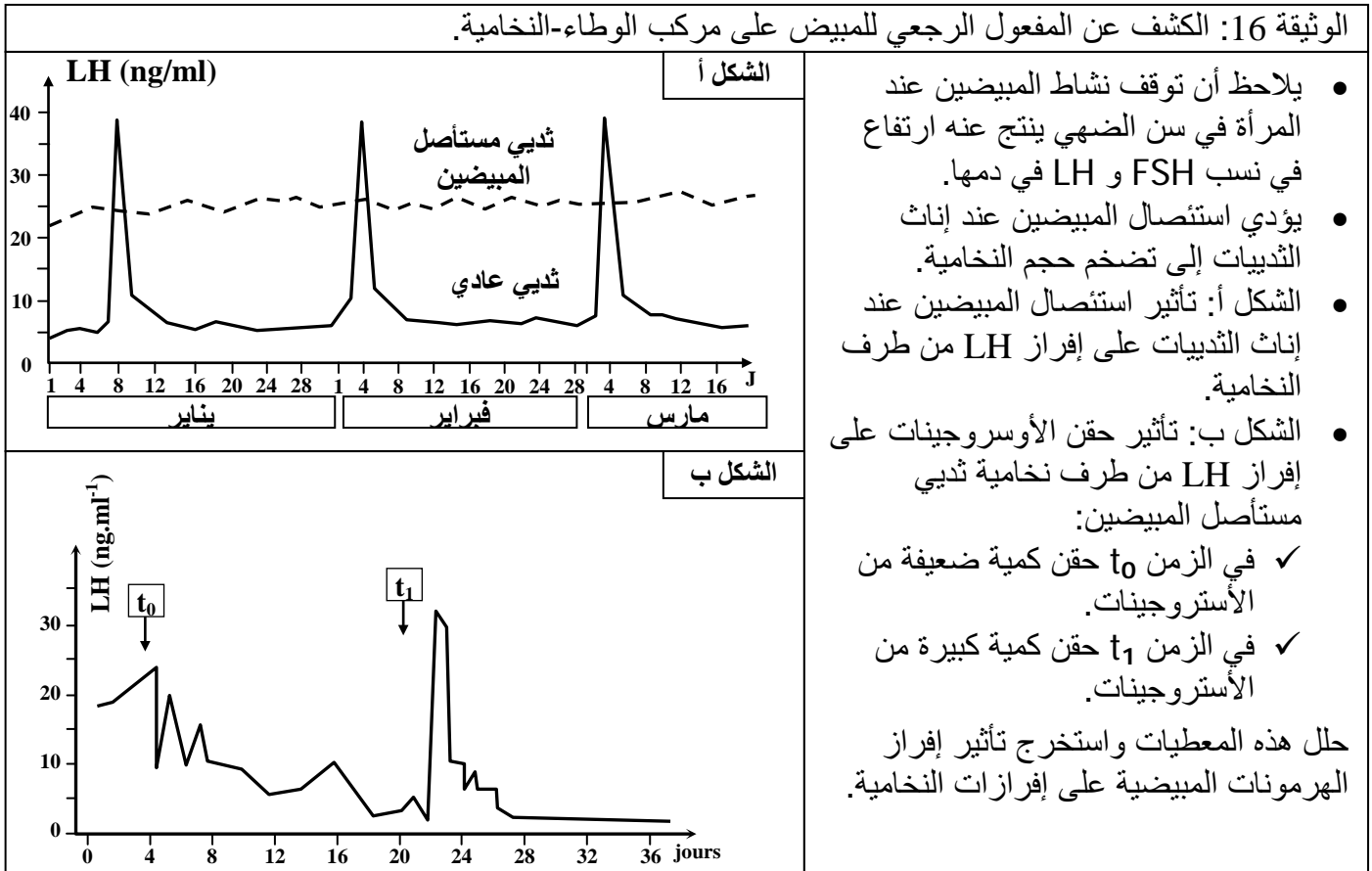


## b - تحليل واستنتاج:

يتبين من خلال هذه المعطيات أن الوطاء يراقب إفراز LH و FSH من طرف النخامية الأمامية، وذلك بواسطة هرمون عصبي هو GnRH الذي يفرز بطريقة نبضية.

## ج - الكشف عن المفعول الرجعي للمبيض على مركب الوطاء-النخامية:

### a - ملاحظات وتجارب: أنظر الوثيقة 16



## b - تحليل واستنتاج:

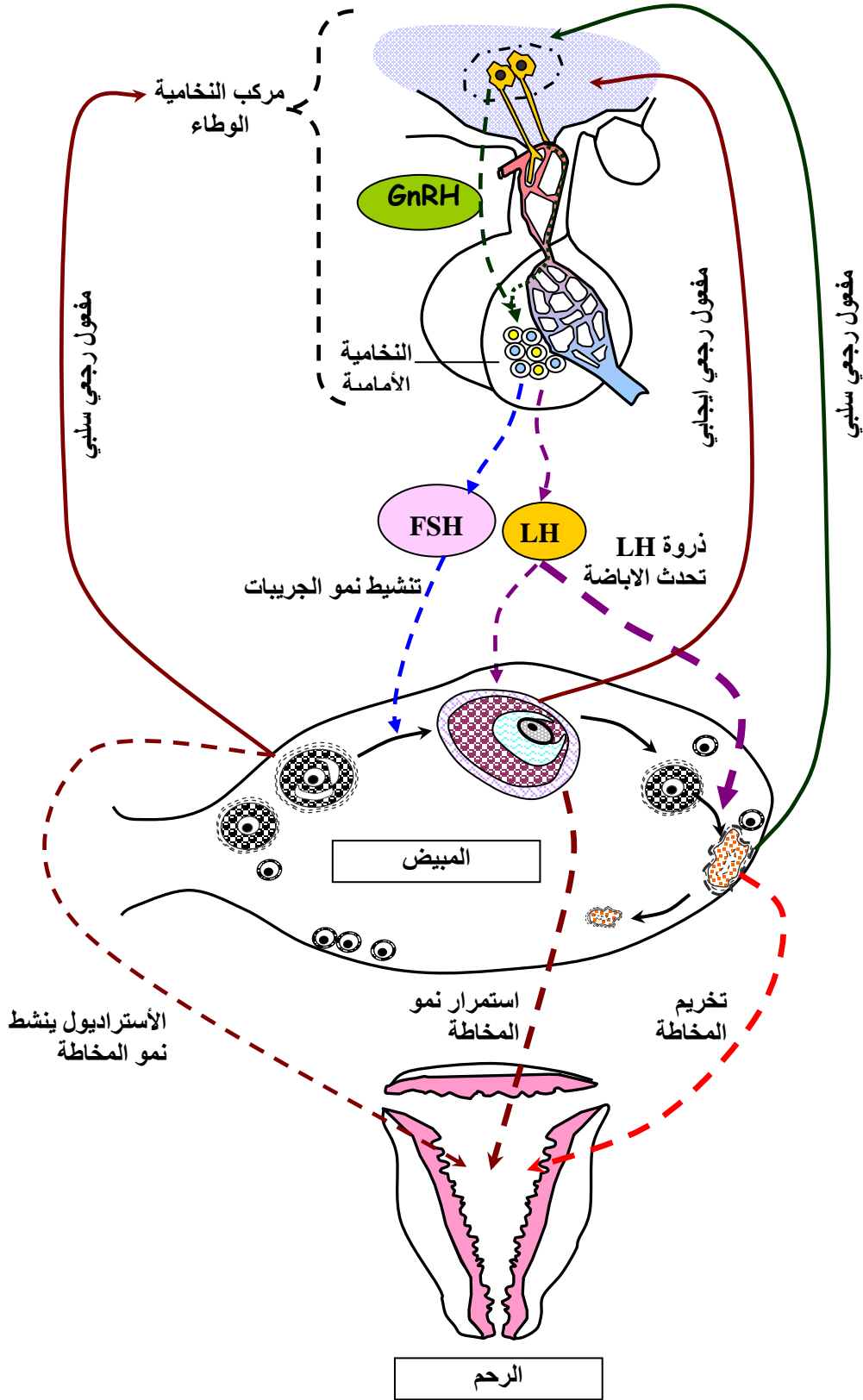
- يؤدي استئصال المبيضان عند إناث الثدييات إلى ارتفاع إفراز LH من طرف الغدة النخامية عند ثديي مستأصل المبيضان:
  - يؤدي حقن كمية ضعيفة من الأستروجينات في الزمن  $t_0$  إلى انخفاض إفراز LH من طرف الغدة النخامية.
  - يؤدي حقن كمية كبيرة من الأستروجينات في الزمن  $t_1$  إلى ارتفاع إفراز LH من طرف الغدة النخامية.
- يتبين من هذه المعطيات أن المبيض يراقب نشاط النخامية أي إفراز LH و FSH و ذلك عن طريق الهرمونات المبيضية وهو ما يسمى بالمفعول الرجعي.

- ✓ الأستروجينات بكمية ضعيفة تمارس مفعول رجعي كإح (سلبى)
- ✓ الأستروجينات بكمية كبيرة تمارس مفعول رجعي مهيح (إيجابى)

## C - خلاصة: أنظر الوثيقة 17

طيلة المرحلة الجريبية، تمارس الهرمونات المبيضية مفعولا رجعيا سلبيا على مركب الوطاء-النخامية، وفي نهاية هذه المرحلة يبلغ إفراز الأستروجينات ذروته، فيقلب المفعول الرجعي ليصبح إيجابيا. ينتج عن ذلك تفرغ مهم للهرمونات النخامية المسببة للإباضة.

خلال المرحلة الجسفرونية، تمارس الهرمونات المبيضية من جديد مفعولا رجعيا سلبيا.



الوثيقة 17: خطاطة تبرز الية تنظيم افراز الهرمونات الجنسية عند المرأة.